


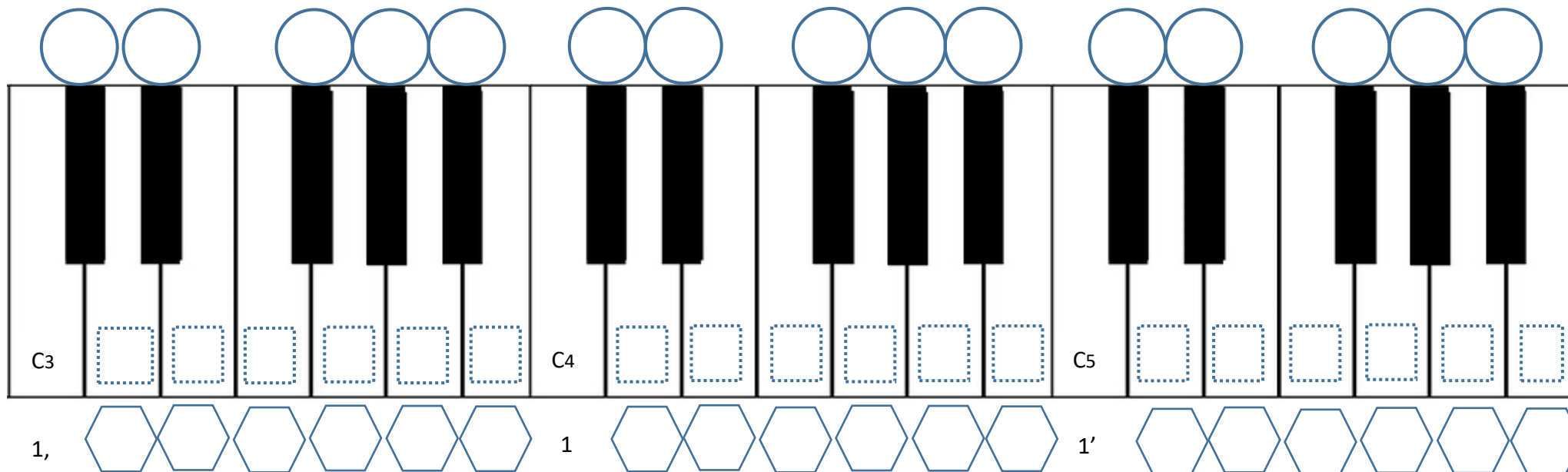


姓名：

中二 簡譜與琴鍵

- 請在  填上白鍵的音名。
- 請在  填上黑鍵的音名。(升或降均可)
- 請在  填上數字譜。(1=C)

4.	升號 (Sharp)	降號 (Flat)
畫出符號		
解釋 圈出答案	左 / 右 琴鍵 (把基本音升高一個半音)	左 / 右 琴鍵 (把基本音降低一個半音)



The diagram shows a piano keyboard with three octaves labeled C3, C4, and C5. Above the keyboard, circles are placed over the black keys. Below the keyboard, hexagons are placed under the white keys. The labels C3, C4, and C5 are on the left side of the keyboard. The labels 1, 1, and 1' are on the bottom left of the keyboard.

5. 利用網上鋼琴琴鍵，彈出以下樂曲及猜出樂曲名稱

a.	第一小節				第二小節				第三小節				第四小節				樂曲名稱
	E	E	F	G	G	F	E	D	C	C	D	E	E	D	D	-	
3	3	4	5	5	4	3	2	1	1	2	3	3	2	2	-		

b.	第一小節				第二小節				第三小節				第四小節				樂曲名稱
	C	C	G	G	A	A	G	-	F	F	E	E	D	D	C	-	
1	1	5	5	6	6	5	-	4	4	3	3	2	2	1	-		

c.	第一小節				第二小節				第三小節				第四小節				樂曲名稱
	G	<u>CD</u>	<u>EF</u>		G	C	C		A	<u>FG</u>	<u>AB</u>		C'	C	C		
5	<u>12</u>	<u>34</u>		5	1	1		6	<u>45</u>	<u>67</u>		1'	1	1			

d.	第一小節				第二小節				第三小節				樂曲名稱
	G	<u>EG</u>	A	G	C'	D'	C'	<u>GA</u>	<u>GE</u>	<u>CE</u>	D	-	
5	35	6	5	1'	2'	1'	<u>56</u>	<u>53</u>	<u>13</u>	2	-		